


Sólidos: PRISMAS



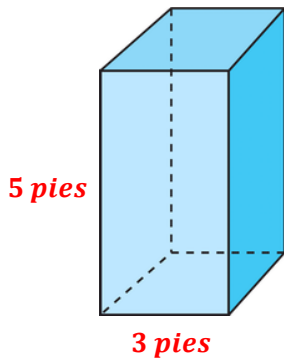
Para verificar sus respuestas en esta hoja de trabajo, le invitamos a visitar el siguiente enlace, el cual le direccionará al video en YouTube con los ejercicios resueltos.



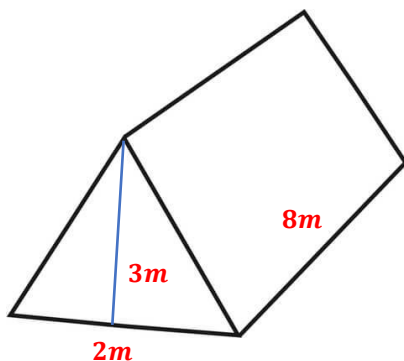
<https://www.youtube.com/watch?v=cM610BOIgLY&list=PLrWgaBPH82FJLbcB9WQwT8-UNk7ZTHxEi&index=22>

INSTRUCCIONES: Realice los siguientes ejercicios.


Encuentre el área total de la superficie de un prisma cuadrangular con una base de 3 pies de largo y 5 pies de altura.



Encuentre el área total de la superficie del siguiente prisma triangular.



Sólidos: PRISMAS



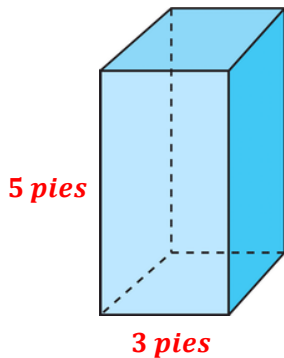
Para verificar sus respuestas en esta hoja de trabajo, le invitamos a visitar el siguiente enlace, el cual le direccionará al video en YouTube con los ejercicios resueltos.



<https://www.youtube.com/watch?v=cM610BOIgLY&list=PLrWgaBPH82FJLbcB9WQwT8-UNk7ZTHxEi&index=22>

INSTRUCCIONES: Realice los siguientes ejercicios.

Encuentre el volumen de un prisma cuadrangular con una base de 3 pies de longitud y 5 pies de altura.



Encuentre el volumen del siguiente prisma triangular.

