

# PUNTOS Y RECTAS NOTABLES DEL TRIÁNGULOS

KNOWLEDGE FOR THE WORLD

 **TEXAN**  
GLOBAL SCHOOL  
Global Online Learning

**PUNTOS Y RECTAS NOTABLES DEL TRIÁNGULO**

SUBSCRIBE 



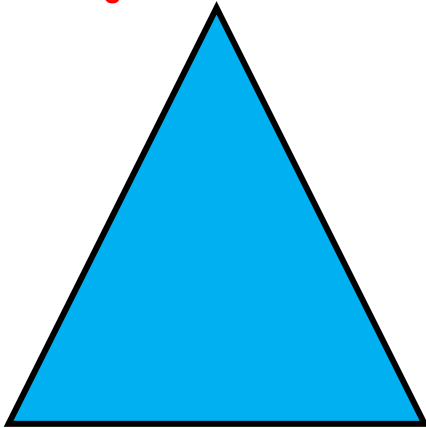
Para verificar sus respuestas en esta hoja de trabajo, le invitamos a visitar el siguiente enlace, el cual le direccionará al video en YouTube con los ejercicios resueltos.




[https://www.youtube.com/watch?v=BXC\\_K\\_n6fIAM&list=PLrWgaBPH82FJeSmnNBZifR\\_U7uG5lv4T&index=5](https://www.youtube.com/watch?v=BXC_K_n6fIAM&list=PLrWgaBPH82FJeSmnNBZifR_U7uG5lv4T&index=5)

**INSTRUCCIONES:** Resuelva lo siguiente.


1.- Trace alguna de las tres medianas del siguiente triángulo.



2.- Trace alguna de las tres medianas del siguiente triángulo.



3.- Trace alguna de las tres medianas del siguiente triángulo.



# PUNTOS Y RECTAS NOTABLES DEL TRIÁNGULOS

KNOWLEDGE FOR THE WORLD

 **TEXAN**  
GLOBAL SCHOOL  
Global Online Learning

**PUNTOS Y RECTAS NOTABLES DEL TRIÁNGULO**

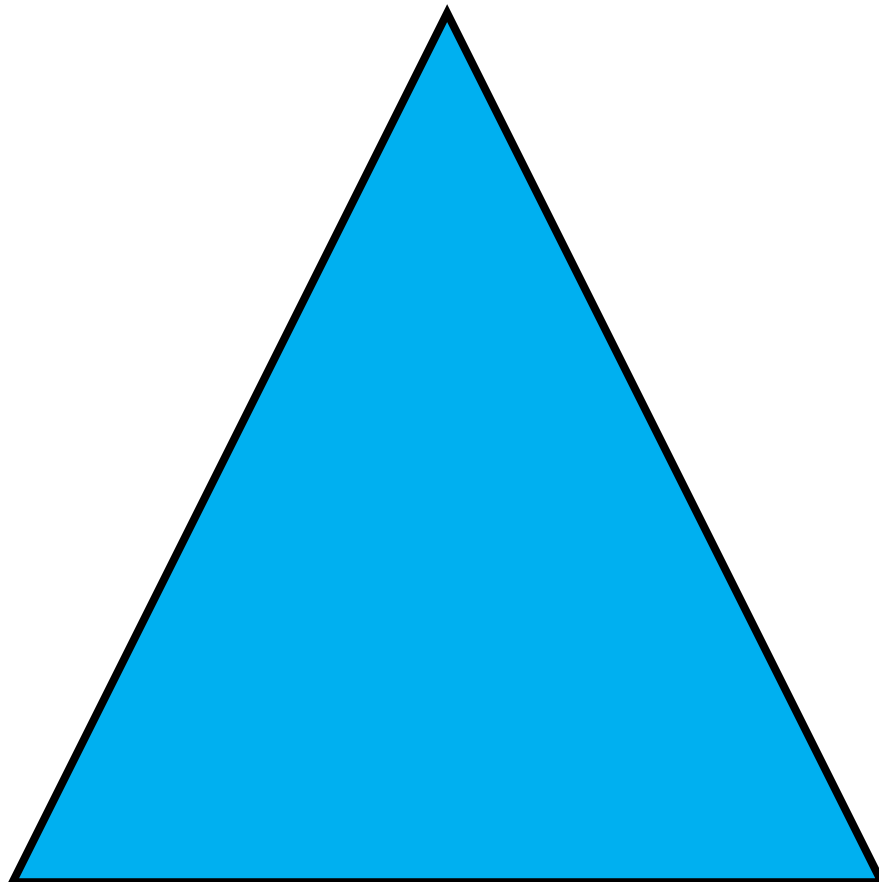
Para verificar sus respuestas en esta hoja de trabajo, le invitamos a visitar el siguiente enlace, el cual le direccionará al video en YouTube con los ejercicios resueltos.



[https://www.youtube.com/watch?v=BXC\\_K\\_n6fIAM&list=PLrWgaBPH82FJeSmnNBZifR\\_U7uG5lv4T&index=5](https://www.youtube.com/watch?v=BXC_K_n6fIAM&list=PLrWgaBPH82FJeSmnNBZifR_U7uG5lv4T&index=5)

**INSTRUCCIONES:** Resuelva lo siguiente.

4.- Trace el baricentro del siguiente triángulo.



# PUNTOS Y RECTAS NOTABLES DEL TRIÁNGULOS

KNOWLEDGE FOR THE WORLD

 **TEXAN**  
GLOBAL SCHOOL  
Global Online Learning

**PUNTOS Y RECTAS NOTABLES DEL TRIÁNGULO**

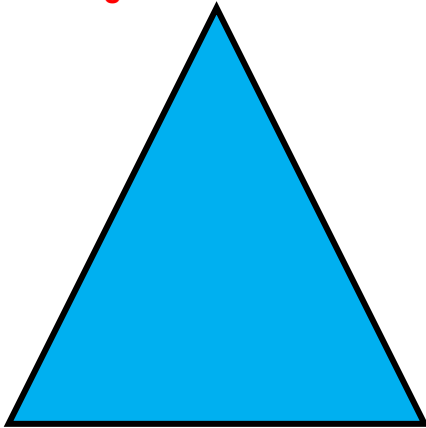
Para verificar sus respuestas en esta hoja de trabajo, le invitamos a visitar el siguiente enlace, el cual le direccionará al video en YouTube con los ejercicios resueltos.




[https://www.youtube.com/watch?v=BXC\\_K\\_n6fIAM&list=PLrWgaBPH82FJeSm\\_nNBZifR\\_U7uG5lv4T&index=5](https://www.youtube.com/watch?v=BXC_K_n6fIAM&list=PLrWgaBPH82FJeSm_nNBZifR_U7uG5lv4T&index=5)

**INSTRUCCIONES:** Resuelva lo siguiente.


5.- Trace alguna de las tres mediatrices del siguiente triángulo.



6.- Trace alguna de las tres mediatrices del siguiente triángulo.



7.- Trace alguna de las tres mediatrices del siguiente triángulo.



# PUNTOS Y RECTAS NOTABLES DEL TRIÁNGULOS

KNOWLEDGE FOR THE WORLD

 **TEXAN**  
GLOBAL SCHOOL  
Global Online Learning

**PUNTOS Y RECTAS NOTABLES DEL TRIÁNGULO**


Para verificar sus respuestas en esta hoja de trabajo, le invitamos a visitar el siguiente enlace, el cual le direccionará al video en YouTube con los ejercicios resueltos.



[https://www.youtube.com/watch?v=BXC\\_K\\_n6fIAM&list=PLrWgaBPH82FJeSmnNBZifR\\_U7uG5lv4T&index=5](https://www.youtube.com/watch?v=BXC_K_n6fIAM&list=PLrWgaBPH82FJeSmnNBZifR_U7uG5lv4T&index=5)

**INSTRUCCIONES:** Resuelva lo siguiente.

7.- Trace el circuncentro del siguiente triángulo.



# PUNTOS Y RECTAS NOTABLES DEL TRIÁNGULOS

KNOWLEDGE FOR THE WORLD

 **TEXAN**  
GLOBAL SCHOOL  
Global Online Learning

**PUNTOS Y RECTAS NOTABLES DEL TRIÁNGULO**

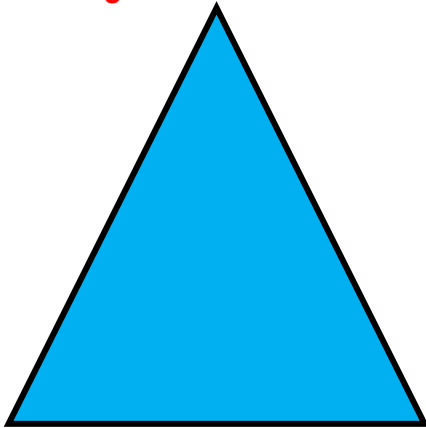
Para verificar sus respuestas en esta hoja de trabajo, le invitamos a visitar el siguiente enlace, el cual le direccionará al video en YouTube con los ejercicios resueltos.




[https://www.youtube.com/watch?v=BXC\\_K\\_n6fIAM&list=PLrWgaBPH82FJeSmnNBZifR\\_U7uG5lv4T&index=5](https://www.youtube.com/watch?v=BXC_K_n6fIAM&list=PLrWgaBPH82FJeSmnNBZifR_U7uG5lv4T&index=5)

**INSTRUCCIONES:** Resuelva lo siguiente.


8.- Trace alguna de las tres bisectrices del siguiente triángulo.



9.- Trace alguna de las tres bisectrices del siguiente triángulo.



10.- Trace alguna de las tres bisectrices del siguiente triángulo.



# PUNTOS Y RECTAS NOTABLES DEL TRIÁNGULOS

KNOWLEDGE FOR THE WORLD

 **TEXAN**  
GLOBAL SCHOOL  
Global Online Learning

**PUNTOS Y RECTAS NOTABLES DEL TRIÁNGULO**


Para verificar sus respuestas en esta hoja de trabajo, le invitamos a visitar el siguiente enlace, el cual le direccionará al video en YouTube con los ejercicios resueltos.



[https://www.youtube.com/watch?v=BXC\\_K\\_n6fIAM&list=PLrWgaBPH82FJeSmnNBZifR\\_U7uG5lv4T&index=5](https://www.youtube.com/watch?v=BXC_K_n6fIAM&list=PLrWgaBPH82FJeSmnNBZifR_U7uG5lv4T&index=5)

**INSTRUCCIONES:** Resuelva lo siguiente.

11.- Trace el incentro del siguiente triángulo.



# PUNTOS Y RECTAS NOTABLES DEL TRIÁNGULOS

KNOWLEDGE FOR THE WORLD

 **TEXAN**  
GLOBAL SCHOOL  
Global Online Learning

**PUNTOS Y RECTAS NOTABLES DEL TRIÁNGULO**

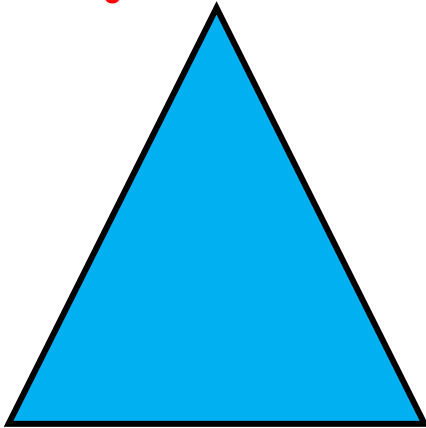
Para verificar sus respuestas en esta hoja de trabajo, le invitamos a visitar el siguiente enlace, el cual le direccionará al video en YouTube con los ejercicios resueltos.




[https://www.youtube.com/watch?v=BXC\\_K\\_n6fIAM&list=PLrWgaBPH82FJeSm\\_nNBZifR\\_U7uG5lv4T&index=5](https://www.youtube.com/watch?v=BXC_K_n6fIAM&list=PLrWgaBPH82FJeSm_nNBZifR_U7uG5lv4T&index=5)

**INSTRUCCIONES:** Resuelva lo siguiente.


12.- Trace alguna de las tres alturas del siguiente triángulo.



13.- Trace alguna de las tres alturas del siguiente triángulo.



14.- Trace alguna de las tres alturas del siguiente triángulo.



# PUNTOS Y RECTAS NOTABLES DEL TRIÁNGULOS

KNOWLEDGE FOR THE WORLD

 **TEXAN**  
GLOBAL SCHOOL  
Global Online Learning

**PUNTOS Y RECTAS NOTABLES DEL TRIÁNGULO**

**SUBSCRIBE** 

Para verificar sus respuestas en esta hoja de trabajo, le invitamos a visitar el siguiente enlace, el cual le direccionará al video en YouTube con los ejercicios resueltos.



[https://www.youtube.com/watch?v=BXC\\_K\\_n6fIAM&list=PLrWgaBPH82FJeSmnNBZifR\\_U7uG5lv4T&index=5](https://www.youtube.com/watch?v=BXC_K_n6fIAM&list=PLrWgaBPH82FJeSmnNBZifR_U7uG5lv4T&index=5)

**INSTRUCCIONES:** Resuelva lo siguiente.

15.- Trace el ortocentro del siguiente triángulo.

