

Geometría Plana: Cuadrado



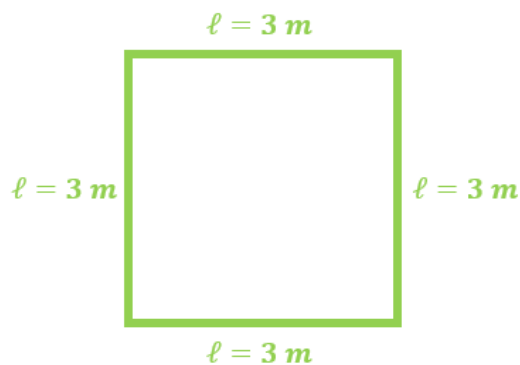
Para verificar sus respuestas en esta hoja de trabajo, le invitamos a visitar el siguiente enlace, el cual le direccionará al video en YouTube con los ejercicios resueltos.



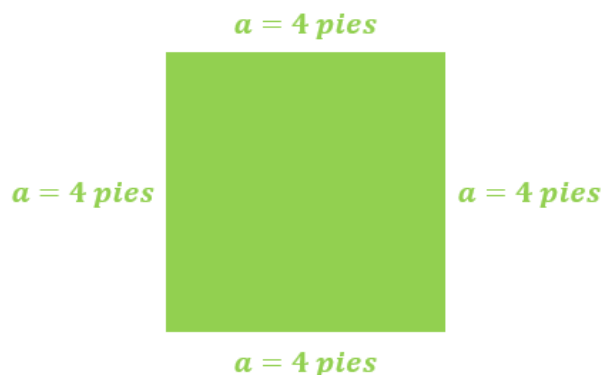
<https://www.youtube.com/watch?v=k3iseXDavOE&list=PLrWgaBPH82FJLbcB9WQwT8-UNk7ZTHxEi&index=2>

INSTRUCCIONES: Efectúe las siguientes operaciones.

- Sea un cuadrado de lado $\ell = 3\text{ m}$. ¿Cuál es su perímetro?



- Sea un cuadrado de lado $a = 4\text{ pies}$. ¿Cuál es su área?

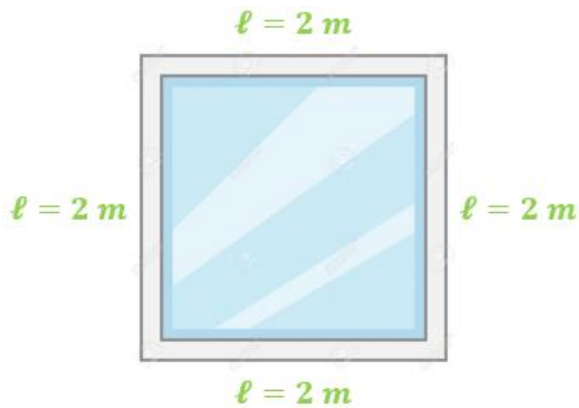


Geometría Plana: Cuadrado

INSTRUCCIONES: Resuelva el siguiente ejercicio.

- En una casa se va a colorar una ventana cuadrada de 2 m de lado. ¿Cuál es el perímetro (el marco) y el área (el cristal) de la ventana?

Perímetro:



Área:

