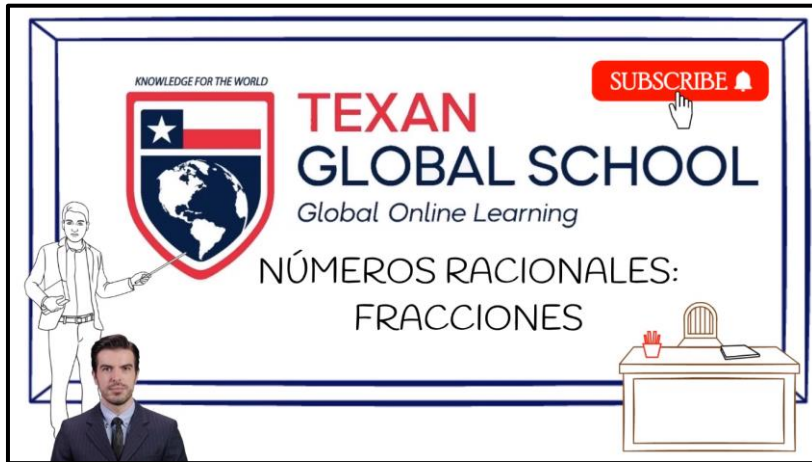


# Números Racionales: Fracciones



KNOWLEDGE FOR THE WORLD  
TEXAN  
GLOBAL SCHOOL  
Global Online Learning  
NÚMEROS RACIONALES:  
FRACCIONES

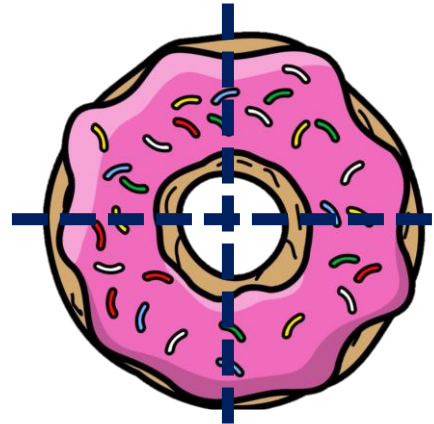
Para verificar sus respuestas en esta hoja de trabajo, le invitamos a visitar el siguiente enlace, el cual le direccionará al video en YouTube con los ejercicios resueltos.



<https://www.youtube.com/watch?v=h8ul3-9pYvc&list=PLrWgaBPH82FLKgZ9oodO17VXfSe6vTEaV&index=8>

**INSTRUCCIONES:** Contesté adecuadamente a las preguntas de los siguientes enunciados.

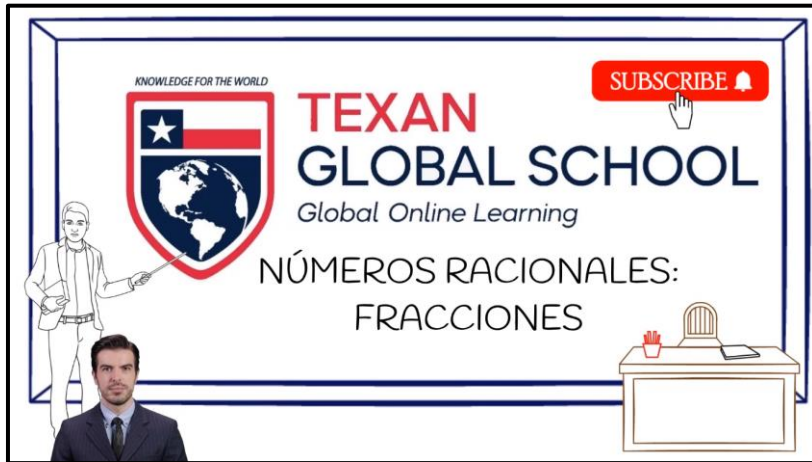
- Si dividimos una dona en cuatro partes iguales, ¿Cómo se representaría la fracción de esas cuatro partes?



- Represente en forma de fracción la cantidad de agua que falta para que se llene la botella.



# Números Racionales: Fracciones



KNOWLEDGE FOR THE WORLD  
**TEXAN**  
GLOBAL SCHOOL  
Global Online Learning  
NÚMEROS RACIONALES:  
FRACCIONES  
SUBSCRIBE

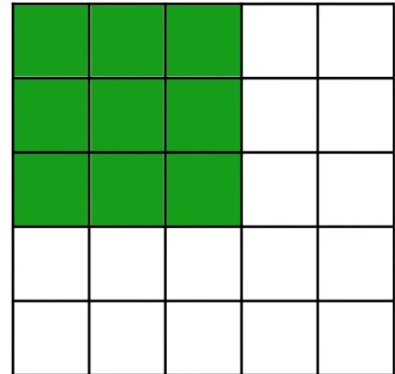
Para verificar sus respuestas en esta hoja de trabajo, le invitamos a visitar el siguiente enlace, el cual le direccionará al video en YouTube con los ejercicios resueltos.



<https://www.youtube.com/watch?v=h8ul3-9pYvc&list=PLrWgaBPH82FLKgZ9oodO17VXfSe6vTEaV&index=8>

**INSTRUCCIONES:** Contesté adecuadamente las siguientes enunciados.

- ¿Qué fracción representa el área coloreada de la siguiente figura?



- ¿Qué fracción representa dos secciones de un círculo dividido en tres partes iguales?.

